



Nombre: Fecha: Curso:

1 Suma de dos maneras distintas y resuelve.

29 y 36

	2	9		3	6
+			+		
-----			-----		

43 y 47

+			+		
-----			-----		

• ¿Cómo son los resultados de cada pareja de sumas?

.....

• ¿Por qué?


.....

2 Escribe el número correspondiente de los relojes que marcan la misma hora.


1




2



3



4



.....



.....



.....



.....



Nombre: Fecha: Curso:

1 Subraya las oraciones verdaderas.

Si ahora son las 8 y media, dentro de media hora serán las 9:00.

Los cuadriláteros tienen 5 lados.

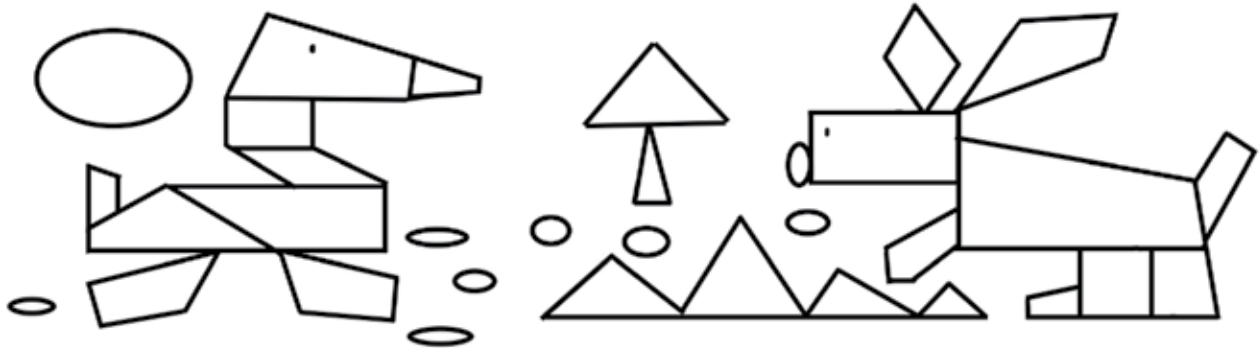
Dos horas antes de las 06:30 son las 08:30.

Un cuadrado tiene los 4 lados iguales.

2 Rodea los números pares y tacha los impares.

36 – 45 – 100 – 88 – 21 – 99 – 17 – 50 – 64

3 Colorea los cuadriláteros.



4 Coloca y calcula.

$$98 - 45$$

$$34 + 4 + 44$$

$$64 + 27$$
