




Nombre: Fecha: Curso:

- 1 Dibuja los muñecos que faltan para tener diez unidades.



- 2 Repasa y completa las series.

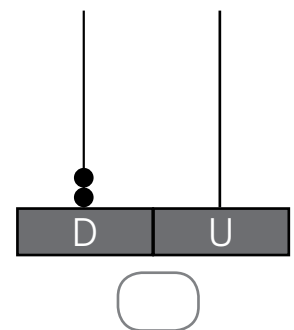
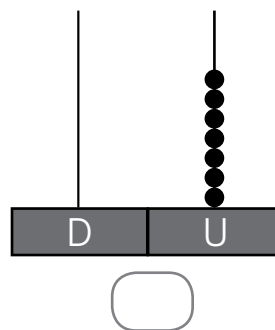
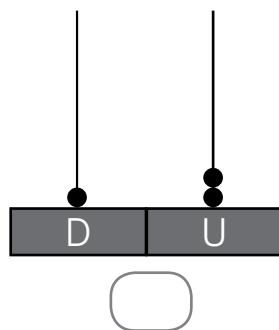
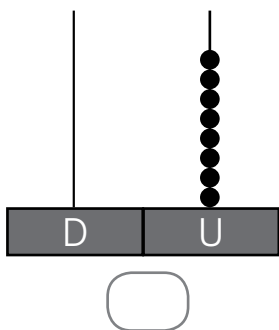
0 1 2 3 4 5 6 7 8 9 10

0 1 2 3 4 5 6 7 8 9 10

10 9 8 7 6 5 4 3 2 1 0

10 9 8 7 6 5 4 3 2 1 0


- 3 Marca los ábacos que tienen más de una decena.






Nombre: Fecha: Curso:


1 Observa, repasa y completa.



$$4 - 1 = 3$$



$$6 - \dots = 4$$



$$\dots - 2 = 2$$

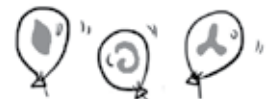


$$\dots - 5 = \dots$$

2 Marca la solución correcta y escribe el resultado.







Había

Volaron

Quedan

$$5 - 2 = \dots$$