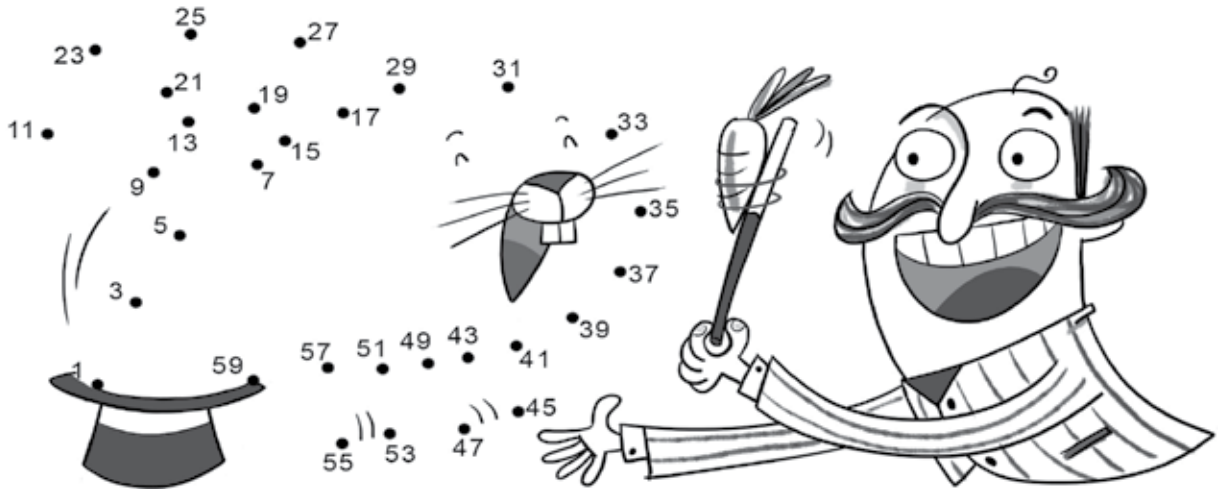


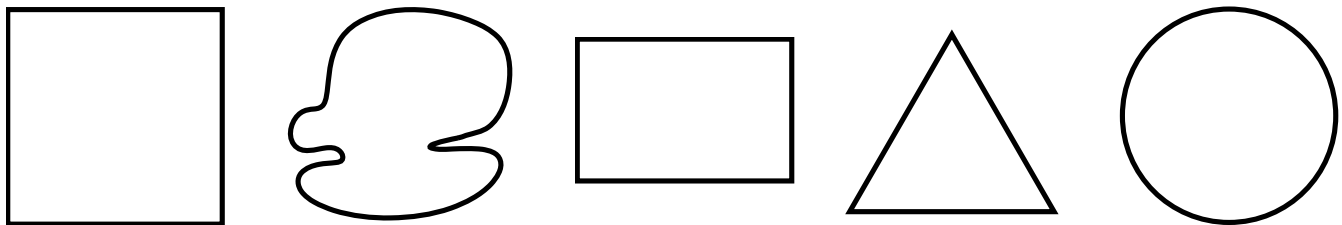


Nombre: Fecha: Curso:

1 ¿Qué saca el mago de la chistera? Une los puntos contando de dos en dos.

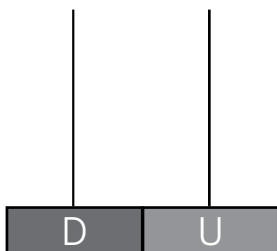


2 Colorea el interior de los polígonos.

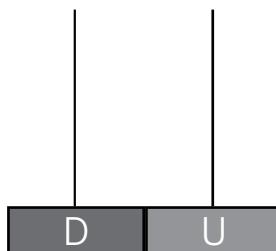


3 Completa las sumas y dibuja las soluciones en los ábacos.

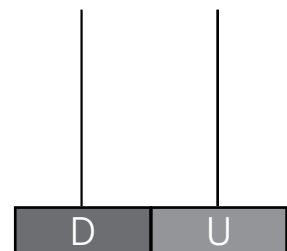
$$37 + 4 = \dots\dots$$



$$48 + \dots\dots = 50$$



$$\dots\dots + 3 = 54$$






Nombre: Fecha: Curso:

1 Completa las operaciones.

8	-	2	+	3	5	+	5	-	6	4	+	3	+	3	
/		/			/		/			/		/			
6															
/		/		/		/		/		/		/		/	

2 Repasa la frontera de la bandera pirata y decora su interior.



3 En un barco había 37 piratas. Salen 15 a pescar. ¿Cuántos quedan en el barco?



Había

Salen

	D	U

► Quedan piratas en el barco.