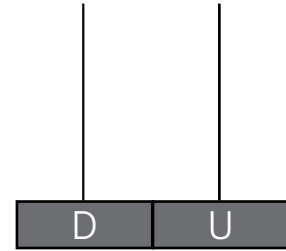





Nombre: Fecha: Curso:

- 1 Haz grupos de diez y completa.



Hay decenas y unidades.

- 2 Tengo una decena de zanahorias y 8 conejos. ¿Hay una para cada conejo? Marca.



No, faltan 2 zanahorias.


Sí, sobran 2 zanahorias.

- Colorea los conejos con las orejas anchas y largas.



Nombre: Fecha: Curso:

- 1 ¿Cuántos pollitos faltan por nacer?



Hay huevos.

Han nacido .

..... - =

Faltan por nacer .

- 2 Calcula y rodea los números menores que 4.

$$8 - 5 = \dots \quad 4 + 6 = \dots \quad 7 - 1 = \dots$$

$$3 + 6 = \dots \quad 9 - 2 = \dots \quad 5 - 2 = \dots$$

- 3 Repasa las líneas curvas y cerradas. Después, colorea.

