



Nombre: Fecha: Curso:

1 Une las casillas que indican la misma cantidad.

veintinueve

2 D

25

diecinueve

2 D y 9 U

20

veinte

1 D y 5 U

19

quince

1 D y 9 U

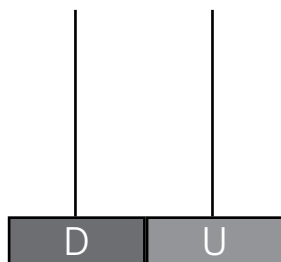
15

veinticinco

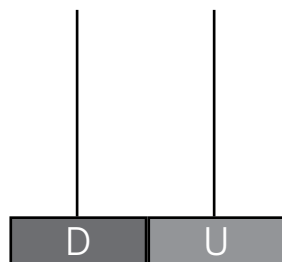
2 D y 5 U

29

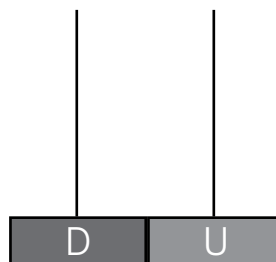
2 Dibuja en el ábaco los números indicados.



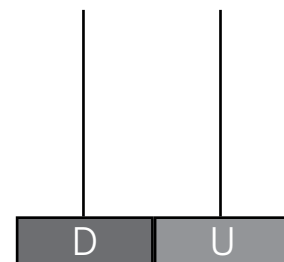
23



30



33




3




Nombre: Fecha: Curso:

1 Cuenta y completa.




Veinte

$$10 + 10 = \dots$$



Treinta

$$\dots + \dots + \dots = \dots$$



Treinta y dos

$$\dots + \dots + \dots + \dots = \dots$$

2 Lee y resuelve.

En un paquete había 24 galletas. Se han comido 13. ¿Cuántas galletas quedan?

Había

Se han comido

▶ Quedan 

	D	U
	2	4
-	1	3

